

1. Per la presenza di disfagia è necessario frantumare la terapia ad una signora che assume: Lodrota® (prednisone) a rilascio modificato 1cp alle 22; Lasix® (furosemide) 1cp ore 8.00; Carvipress® 1 cp (carvedilolo) ore 8-20; Ascriptin® 1 cp (acido acetilsalicilico e magnesio idrossido) ore 12. Quale/i farmaco/i non è possibile tritare

- a) Lodrota® e Ascriptin®
- b) Lodrota®
- c) Lasix® e Carvipress®
- d) Lasix®
- e) Ascriptin ®

2. Stai assistendo un signore ricoverato in Stroke Unit per un ictus ischemico fronto-parietale sx. Osservi che è logorroico, risponde alle tue domande, ma formula frasi senza senso e inventa nuove parole, non è in grado di leggere. Quale problema stai osservando?

- a) Afasia motoria
- b) Afasia sensitiva
- c) Disartria
- d) Agnosia
- e) Neglet

3. È in corso il piano di dimissione di un paziente di 65 anni, sposato con 2 figli un maschio e una femmina. Il paziente ha esiti funzionali a seguito di una emorragia cerebrale: deficit motorio completo dell'arto superiore destro e ipotonia arto inferiore, difficoltà nella deglutizione e nell'attentività. La moglie si oppone alla dimissione esplicitando che la riabilitazione è stata insufficiente e che lei non sa come affrontare la situazione a casa. Decidi quindi di:

- a) contattare il medico ed il fisioterapista per informare la moglie sugli interventi attuati in quanto emerge non conoscenza del percorso riabilitativo;
- b) rassicurare la moglie rispetto ai risultati raggiunti e che tramite l'assistente sociale sarà avviato l'iter per l'invalidità in modo da ottenere presidi per non autosufficienti e un aiuto a domicilio;
- c) tranquillizzare la signora rassicurandola sul fatto che il suo problema verrà sicuramente preso in considerazione;
- d) concordare con la moglie un incontro con la figlia perché è opportuno identificare un caregiver meno ansioso per garantire un ottimale rientro a domicilio;
- e) valutare con la moglie le attese rispetto alla riabilitazione e le difficoltà percepite al fine di attivare servizi territoriali e risorse famigliari.

4. Durante l'assistenza osservi due giovani Operatori Socio Sanitari mentre stanno realizzando la cura del corpo ad un signore allettato portatore di gastrostomia percutanea (PEG) e nutrizione enterale in corso. Rilevi che "hanno posizionato il signore supino a 10-15 ° e al termine sollevato la testa del letto a circa 40°". Dall'osservazione deduci che gli Operatori:

- a) hanno messo in pratica le azioni necessarie per un paziente con PEG;
- b) avrebbero dovuto tenere una posizione a 30-40° e interrompere la nutrizione durante l'attività;
- c) avrebbero dovuto mantenere sempre la testata del letto a 30-40°;
- d) avrebbero dovuto interrompere la nutrizione;
- e) avrebbero dovuto mantenere la posizione supina per 5-10' dopo il termine dell'attività.

5. In un reparto di chirurgia generale, facendo riferimento al Profilo Nazionale dell'OSS e ai criteri per l'assegnazione delle attività, quale fra i seguenti compiti assistenziali può essere assegnato ad un operatore socio sanitario (OSS)?

- a) eseguire l'igiene personale di un paziente ricoverato da poche ore per trauma toraco-addominale e frattura di bacino;
- b) assistere nella deambulazione, con l'ausilio di un girello, un paziente anziano, collaborante, operato di gastrectomia parziale in quarta giornata postoperatoria;
- c) accogliere dalla sala operatoria un paziente operato di colicistectomia, rilevare i parametri e le funzioni vitali e registrare i dati raccolti sugli strumenti informativi di uso comune;
- d) trasportare in endoscopia digestiva un paziente con varici esofagee sanguinanti per effettuare terapia sclerosante in urgenza;
- e) eseguire la prima mobilizzazione di un paziente sottoposto a toracotomia per resezione polmonare in seconda giornata postoperatoria

6. Devi trasportare un paziente operato in 2° giornata in radiologia per il controllo del torace. Il paziente mantiene una saturazione dell'ossigeno del 90% in aria ambiente necessita di ossigenoterapia con un'erogazione di ossigeno di 10l/min. Hai a disposizione una bombola da 5 l con valore sul manometro pari 150 atm che contiene 750 l di ossigeno. Calcola il tempo di autonomia della bombola per garantire l'apporto di ossigeno necessario al paziente durante la sua permanenza in radiologia.

- a) 70 min
- b) 65 min
- c) 80 min
- d) 75 min
- e) 60 min

7. Si deve preparare una soluzione glucosata 5% 250 ml più K-flebo 6mEq. Disponi di fiale di K-flebo da 3mEq/ml in fiale da 10 ml. Quanti ml di farmaco si devono aspirare per preparare l'infusione?

- a) 2,5 ml
- b) 2 ml
- c) 3 ml
- d) 3,5 ml
- e) 1,5 ml

8. Ad un paziente con scompenso cardiaco in fase acuta è somministrata furosemide (Lasix ®) per via endovenosa. Dopo quanto tempo dalla somministrazione si cominceranno ad avere i primi effetti sulla diuresi?

- a) 5-15 min
- b) 30 min-1ora
- c) 1-2 ore
- d) 3-4ore
- e) 5 ore circa

9. Per ridurre gli effetti avversi del clisma a base di fosfato di sodio è necessario suggerire alla persona di:

- a) trattenere il liquido il maggior tempo possibile per aumentare l'effetto;
- b) effettuare il clisma in profondità per evitare il contatto con l'ampolla rettale;
- c) espellere il liquido appena avverte lo stimolo per ridurre il tempo di contatto;
- d) rimanere sul fianco sinistro il più possibile per aumentare il tempo di contatto;
- e) trattenere il liquido il più possibile mantenendo la posizione seduta per alcuni minuti.

10. Durante il terzo trimestre di gravidanza, una flussimetria doppler dei vasi materno-fetali nella norma è indicativa di:

- a) buon funzionamento placentare
- b) assenza di malformazioni nel feto
- c) assenza di insufficienza venosa degli arti inferiori della madre
- d) buon afflusso di sangue periferico
- e) sieronegatività della madre per patologie infettive

11. I fattori che determinano il parto sono:

- a) il canale, il corpo mobile, la forza
- b) le contrazioni uterine, il feto
- c) la partoriente, il corpo mobile
- d) la pelvi, il corpo mobile, la forza
- e) il feto, la forza

12. Cosa si intende per poliabortività?

- a) occorrenza di tre o più aborti spontanei prima della ventiduesima settimana di gravidanza;
- b) occorrenza da un aborto spontaneo a un numero illimitato;
- c) occorrenza di due o più aborti spontanei non consecutivi;
- d) occorrenza di uno o più aborti spontanei consecutivi;
- e) occorrenza di tre o più aborti spontanei consecutivi prima della ventesima settimana di gravidanza.

13. Una malformazione che compare in un bambino fin dalla nascita certamente:

- a) è ereditaria
- b) deriva da una mutazione cromosomica
- c) è congenita
- d) deriva da un'aneuploidia
- e) è di origine genetica

14. In una donna sana, quattro ormoni sono rilasciati a livelli diversi durante il ciclo mestruale. L'aumento del rilascio di uno di questi ormoni promuove l'evento successivo. Quale delle opzioni possibili elencate di seguito mostra la corretta sequenza del rilascio degli ormoni a partire dall'inizio della mestruazione? [→= seguito da]

- a) FSH → estrogeno → LH → progesterone
- b) FSH → estrogeno → progesterone → LH
- c) Estrogeno → FSH → progesterone → LH
- d) Estrogeno → progesterone → LH → FSH
- e) Progesterone → estrogeno → LH → FSH

15. Uno studente chiede all'infermiere/ostetrica dove deve essere smaltita una sacca di urine svuotata di un paziente senza patologia infettiva. In base alla normativa (DPR 254/03) risponderà che è un rifiuto sanitario:

- a) assimilato ai rifiuti urbani
- b) pericoloso a rischio infettivo
- c) pericoloso non a rischio infettivo
- d) con specifiche modalità di smaltimento
- e) nessuna delle risposte precedenti.

16. Le linee guida OMS del 2009 indicano che l'igiene delle mani di „routine“ con acqua e sapone deve durare complessivamente:

- a) da 10 a 20 secondi
- b) da 20 a 30 secondi
- c) da 30 a 40 secondi
- d) da 40 a 60 secondi
- e) almeno 90 secondi

17. La speranza di vita alla nascita viene considerato dall'OMS un indicatore sanitario:

- a) dello stile di vita
- b) di sopravvivenza
- c) del livello socio-economico
- d) di riproduttività
- e) di qualità della vita

18. Per evitare gli errori associati all'uso delle soluzioni concentrate di cloruro di potassio- KCl ed altre soluzioni concentrate contenenti potassio per uso endovenoso, la Raccomandazione N°1, marzo 2008 del Ministero della Salute prevede specifiche azioni.

Quale tra le seguenti è corretta:

- a) mantenere la scorta di KCl di uso corrente in armadi separati
- b) tenere un registro di carico e scarico del KCl nominale per paziente
- c) conservare con allarme “ diluire prima della somministrazione: mortale se infuso non diluito”
- d) l'approvvigionamento e la conservazione devono essere effettuati da un preposto dell'Unità Operativa, solitamente il coordinatore
- e) evitare le formulazioni già diluite e pronte all'uso

19. Il DM 3 agosto 2001 relativo alla movimentazione dei farmaci stupefacenti rispetto alla somministrazione parziale di una forma farmaceutica in fiale prevede:

- a) si scarica l'intera fiala e nelle note si indica la quantità di farmaco somministrata e prescritta; la quantità residua si getta nei rifiuti pericolosi
- b) si scarica quantità di farmaco somministrata e prescritta; la quantità residua si getta nei rifiuti speciali
- c) si scarica l'intera fiala e nelle note si indica la quantità di farmaco somministrata e prescritta; la quantità residua si getta nei rifiuti speciali;
- d) si scarica la quantità somministrata e prescritta e nelle note si indica che è stata utilizzata l'intera fiala; la quantità residua si getta nei rifiuti speciali
- e) si scarica la quantità somministrata e prescritta e nelle note si indica che la quantità residua è conservata in una seconda siringa etichetta e siglata in cassaforte

20. Secondo la Raccomandazione N°12, agosto 2010 del Ministero della Salute per la gestione corretta dello stoccaggio dei farmaci LASA (Look-Alike/Sound-Alike) uno degli interventi previsti per prevenire gli errori di terapia tra i seguenti è:

- a) non modificare le confezioni originarie
- b) ordinare i farmaci in ordine alfabetico
- c) aggregare i farmaci con nomi simili
- d) utilizzare segni supplementari di “alert”
- e) aggregare i farmaci con confezioni simili

21. Devi somministrare l'ultima dose del pomeriggio di antibiotico (Amoxicillina/Acido clavulanico 1000/200mg) endovena ad una paziente giovane poco prima della dimissione e ti riferisce che la mattina è stato rimosso l'accesso venoso periferico.

Decidi di:

- a) applicare un nuovo ago cannula 14 gauge
- b) applicare un nuovo ago cannula 22 gauge
- c) sospendere la somministrazione, visto che si tratta dell'ultima dose
- d) valutare se possibile la modalità di somministrazione per bocca
- e) anticipare la dimissione in modo da poter iniziare subito la terapia per bocca a casa.

22. Il virus del papilloma umano è ritenuto essere responsabile di:

- a) leucemia e linfoma a cellule T
- b) tumore dell'ovaio
- c) carcinoma della cervice uterina
- d) carcinoma dell'endometrio
- e) carcinoma epatocellulare

23. Quale, tra i seguenti organismi, segue la modalità di trasmissione "verticale"

- a) virus della rosolia
- b) HIV
- c) cytomegalovirus
- d) HBV
- e) tutte le risposte sono corrette

24. La vaccinazione contro l'epatite da virus B è indicata per:

- a) conviventi di malati
- b) soggetti istituzionalizzati
- c) personale sanitario
- d) talassemici
- e) tutte le risposte sono corrette

25. Quale tra i seguenti è un fattore di rischio ?

- a) fumo di tabacco
- b) classe sociale
- c) capacità di prendere decisioni
- d) dormire 7/8 ore al giorno
- e) reddito

26. Quale tra i seguenti è un determinante di salute (OMS) ?

- a) fumo di tabacco
- b) classe sociale
- c) capacità di prendere decisioni
- d) dormire 7/8 ore al giorno
- e) scarsa attività fisica

27. In quale struttura cerebrale è localizzata l'area di Broca, centro motorio del linguaggio?

- a) emisfero cerebrale destro
- b) bulbo-pontino
- c) cerebellare
- d) ipotalamica
- e) emisfero cerebrale sinistro

28. Un paziente durante un colloquio educativo per smettere di fumare può avere diverse reazioni, quale tra le seguenti appartiene ad uno stile attributivo (locus di controllo) interno?

- a) se il destino è quello che mi venga un tumore al polmone non c'è nulla da fare;
- b) se non viene questa malattia ne viene un'altra;
- c) conosco molti operatori sanitari che fumano pur sapendo che fa male;
- d) so che non dovrei fumare, sento di avere la forza di volontà per smettere;
- e) mi piacerebbe che ci fosse un farmaco che mi risolve il problema, lo prenderei tutti i giorni.

29. Le broncopneumopatie croniche ostruttive (BPCO) comprendono diverse affezioni caratterizzate dalla presenza di:

- a) bronchite e asma
- b) bronchite, asma e enfisema
- c) asma e enfisema
- d) bronchite, asma e enfisema e polmonite batterica
- e) polmonite batterica o virale con asma

30. Che percentuale di parto pretermine è attesa dopo ≥ 2 parti pretermine precedenti:

- a) 20%
- b) 35-40%
- c) 50%
- d) 70%
- e) 5%

31. Si definisce presenza di attività contrattile pretermine valida:

- a) ≥ 4 contrazioni in 20 minuti
- b) almeno 2 contrazioni in 20 minuti
- c) almeno 5 contrazioni in 60 minuti
- d) ≥ 8 contrazioni in 20 minuti
- e) almeno 10 contrazioni in 60 minuti

32. Un infermiere domiciliare sta assistendo le seguenti pazienti:

- * Sig.ra Rossi: allettata, oggi il medico ha modificato il trattamento diuretico e richiesto controllo della diuresi delle 24 ore per alcuni giorni;
- * Sig.ra Bianchi: incontinente con una lesione di 4° stadio a livello sacrale
- * Sig.ra Verdi: affetta da incontinenza d'urgenza, deve raccogliere le urine delle 24 ore per un test di laboratorio
- * Sig.ra Giorgi, incontinente con una lesione di 1 stadio a livello della tuberosità ischiatica

In base alle linee guida del CDC & HICPAC (2009) a quale/i paziente/i potrebbe essere indicato il posizionamento del catetere vescicale:

- a) Sig.ra Bianchi e Sig.ra Verdi
- b) Sig.ra Rossi e Sig.ra Verdi
- c) Sig.ra Bianchi
- d) Sig.ra Verdi
- e) Sig.ra Bianchi e Sig.ra Giorgi

33. "Interazione" significa:

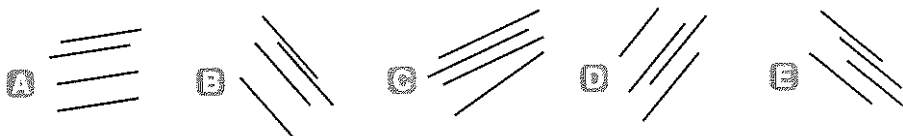
- a) correlazione
- b) azione reciproca
- c) regressione
- d) azione simultanea
- e) incompatibilità

34. Inserire nella tabella le due lettere che completano la serie

E	F	G	G
F	G	H	H
G	H	I	I
	I	L	

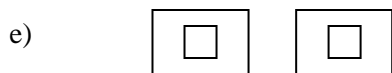
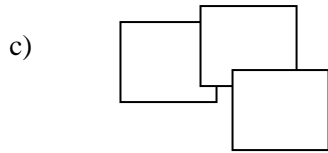
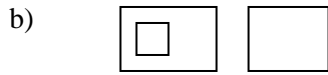
- a) I-L
- b) L-L
- c) H-H
- d) L-H
- e) H-L

35. Scartare una delle cinque rappresentazioni grafiche.



- a) figura A
- b) figura B
- c) figura C
- d) figura D
- e) figura E

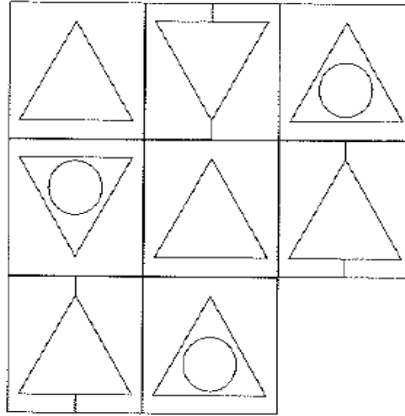
36. A quale disegno corrisponde il seguente gruppo di parole: Veneto – Italia – Europa ?



37. Se sul prezzo di un oggetto si pratica uno sconto del 30%, e quindi sul nuovo prezzo così ottenuto si applica un nuovo sconto del 20%, quanto vale in % lo sconto (cioè la riduzione percentuale) totale sul prezzo iniziale?

- a) 36%
- b) 44%
- c) 50%
- d) 66%
- e) 72%

38) Qual è il quadrato mancante?



- a)
- b)
- c)
- d)
- e)

39. “Sulla memorizzazione di immagini “visive” venne fatto da A. de Groot un esperimento relativo al gioco degli scacchi. Egli dispose i pezzi secondo posizioni diverse prese da partite effettivamente giocate e mostrò la scacchiera ai soggetti per cinque secondi; poi tolse i pezzi e chiese ai soggetti di ricostruire le posizioni. I maestri e i grandi maestri furono capaci di ricostruire le posizioni (con circa 20-24 pezzi sulla scacchiera) quasi senza errori, mentre i principianti riuscirono a mala pena a sistemare in modo corretto qualche pezzo e i giocatori di medio calibro si collocarono a metà tra i campioni e i principianti. Ma il fatto notevole fu che quando si mostrarono ai maestri e ai grandi maestri altre scacchiere con lo stesso numero di pezzi disposti a caso, la loro capacità di ricostruire le posizioni non si rivelò maggiore di quella dimostrata dai principianti di fronte alle partite vere; i principianti, invece, si dimostrarono mediocri come lo erano stati precedentemente”.

Da Herbert A. Simon, *Le scienze dell’artificiale*, Il Mulino, Bologna 1988

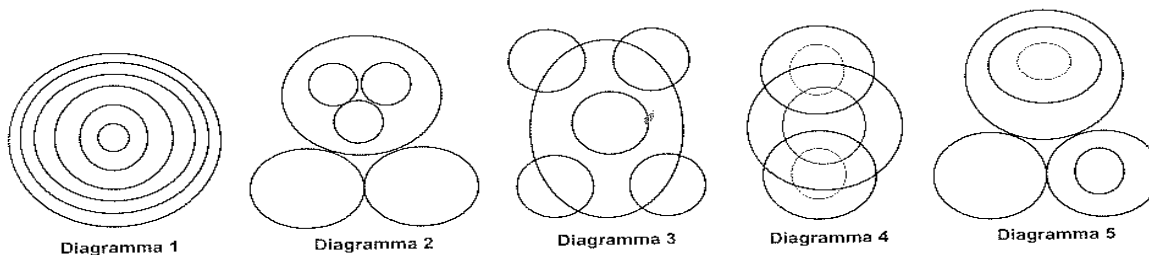
L’esperimento condotto avalla UNA SOLA delle seguenti ipotesi:

- i campioni di scacchi hanno doti speciali per memorizzare le immagini visive
- se non un maestro, un grande maestro può sicuramente registrare fino a 24 pezzi di informazione in cinque secondi;
- i fenomeni di visualizzazione dipendono essenzialmente dalla struttura neurologica individuale;
- l’informazione sulla scacchiera è meglio memorizzabile per i maestri perché registrata sotto forma di relazioni sensate e conosciute tra pezzi;
- oltre ad una eccezionale capacità di memorizzazione, i maestri degli scacchi possiedono una particolare capacità di concentrazione.

40. Individuare quale diagramma soddisfa la relazione insiemistica esistente fra i sei termini descritti nella seguente frase:

La responsabilità giuridica professionale comprende tre fattispecie: la responsabilità penale, civile e amministrativa. Nella responsabilità penale, a seconda della responsabilità del soggetto, si distinguono il dolo, la colpa e la preterintenzione.

I diversi tipi di responsabilità possono comunque riferirsi a un singolo comportamento professionale, producendo quello che viene definito concorso di responsabilità.



- diagramma 1
- diagramma 2
- diagramma 3
- diagramma 4
- diagramma 5

41. Quale di questi ragionamenti è corretto da un punto di vista deduttivo:

- Carlo ha 4 anni. I bambini di 4 anni sono tutti biondi. Quindi Carlo è biondo;
- Carlo frequenta la prima elementare. La maggioranza dei bambini che frequentano la prima elementare ha sei anni, quindi Carlo ha sei anni;
- Carlo ha 4 anni. I bambini sopra 4 anni sono biondi. Quindi Carlo non è biondo;
- Carlo ha 4 anni. I bambini sopra 4 anni non sono biondi. Quindi Carlo è biondo;
- se Carlo avesse sei anni e frequentasse la prima elementare, e se tutti gli altri bambini di quella classe fossero biondi, Carlo sarebbe biondo.

42. Leggiamo su un articolo il seguente testo: “Una grave forma di anemia, l’anemia perniciosa, è dovuta ad una carenza di vitamina B12 che può essere provocata dalla presenza di parassiti intestinali. In carenza di questa vitamina il midollo spinale, sede della produzione delle cellule del sangue, non riesce a svolgere correttamente la sua funzione e vengono prodotti globuli rossi di dimensioni più grandi del normale e in numero insufficiente.”

Questo testo contiene un grave errore in quanto:

- a) la vitamina B12 non è importante per la produzione dei globuli rossi;
- b) nell’anemia perniciosa i globuli rossi sono più piccoli del normale e non più grandi;
- c) i parassiti intestinali non alterano i livelli di vitamina B12;
- d) l’anemia perniciosa non è mai dovuta a carenza di vitamina B12;
- e) il midollo spinale non è sede della produzione dei globuli rossi.

43. Completare la seguente frase: Il ferro si lega a una proteina, la transferrina, che viene sintetizzata dal fegato ed è _____ al trasporto degli ioni ferrici nel circolo sanguigno.

- a) preposta
- b) anteposta
- c) proposta
- d) supposta
- e) imposta

44. Completare la seguente frase che si potrebbe leggere in un referto medico: Si è provveduto _____ di un basalioma nella regione temporale sinistra.

- a) all'accessione
- b) all'accezione
- c) all'eccezione
- d) all'esecrazione
- e) all'escissione

45. Quando si valutano i rischi che corriamo nel corso della vita, il nostro livello di preoccupazione varia a seconda che tali rischi dipendano o meno da noi. Molti, ad esempio, fumano nonostante siano consapevoli dei rischi per la salute, così come altri praticano sport estremi. Le stesse persone, tuttavia, di fronte ad attività a minor rischio, come ad esempio l'utilizzo di mezzi pubblici o il consumo di carne, pretendono che il governo garantisca l'assenza di rischi.

Quale delle seguenti affermazioni è totalmente sostenuta dal brano precedente?

- a) si dovrebbe essere pronti ad accettare alcuni rischi nel corso della vita;
- b) i governi non possono garantire che un'attività sia completamente priva di rischi;
- c) la scelta di correre rischi è un diritto inalienabile;
- d) molte persone non hanno un atteggiamento coerente di fronte al rischio;
- e) i fumatori non hanno alcun diritto di criticare il governo.

46. Quale tris di lettere deve essere logicamente inserita nella seguente sequenza QAR, RAS, SAT, TAU, _____?

- a) UAT
- b) TAS
- c) TAT
- d) UAV
- e) VAU

47. Che cosa è necessario per riformare un articolo della Costituzione italiana?

- a) due deliberazioni da parte di entrambe le camere e la maggioranza assoluta nella seconda votazione in ciascuna camera;
- b) un'unica deliberazione di entrambe le camere e la maggioranza dei due terzi al senato;
- c) due deliberazioni a camere riunite alla presenza del presidente della repubblica;
- d) un'unica deliberazione a camere riunite alla presenza del presidente della repubblica;
- e) un decreto legge approvato dal Consiglio dei Ministri ed emanato dal Presidente della Repubblica.

48. È stato affermato che: “L’inflazione consiste in un generale aumento dei prezzi nominali, accompagnato da una svalutazione della moneta.” Quale tra le seguenti affermazioni è deducibile dalla frase precedente?

- a) c'è una concomitanza tra inflazione e svalutazione;
- b) l'inflazione è determinata dalla svalutazione;
- c) la svalutazione è una conseguenza dell'inflazione;
- d) l'aumento dei prezzi nominali è una causa della svalutazione della moneta;
- e) inflazione e svalutazione sono due eventi statisticamente indipendenti.

49. L'analisi dei risultati di un test ha evidenziato che, per ognuna delle 70 domande proposte, c'è stato almeno un candidato che ha fornito la risposta corretta. Determinare quale delle seguenti situazioni è compatibile con questa analisi.

- a) tutti hanno risposto in maniera errata alla domanda 47;
- b) nessuno ha fornito una risposta alla domanda 53;
- c) nessuno ha risposto correttamente alla domanda 70;
- d) almeno due domande hanno ricevuto risposte errate da parte di tutti i concorrenti;
- e) esiste un candidato che ha risposto in maniera errata a tutte le domande.

50. L'espressione „welfare state“ indica?

- a) la tutela dei diritti dei bambini
- b) la parità di genere
- c) lo stato di benessere dei cittadini
- d) il benessere complessivo di uno stato
- e) lo stato sociale che assicura il benessere dei cittadini.

51. In Italia, l'iniziativa legislativa è riservata al Governo per le leggi:

- a) ordinarie, dato che non esistono materie riservate
- b) in materia di amnistia e di indulto
- c) di revisione costituzionale
- d) in materia di libertà
- e) di bilancio

52. Qual è il trattamento economico spettante in caso di assenze per malattia?

- a) è previsto un periodo di 18 mesi retribuito al 100% per i primi 9 mesi di assenza, al 90% per i successivi 3 mesi ed al 50% per gli ulteriori 6 mesi, mentre il periodo massimo di conservazione del posto può essere di 36 mesi;
- b) in generale per i lavoratori dipendenti l'indennità ammonta al 100% della retribuzione media giornaliera per i primi 30 giorni di malattia; al 66,6% per i giorni successivi della malattia o nei casi di ricaduta;
- c) l'indennità è pari al 100% per i primi due mesi di assenza ma non è però dovuta per ciascun giorno di ritardo nell'invio del certificato, a meno che il lavoratore dimostri un motivo serio che giustifichi il ritardo;
- d) l'indennità di malattia è garantita 100% solo per i giorni in cui è previsto lo svolgimento dell'attività lavorativa e al 90% per quelli di "pausa contrattuale" nel caso il dipendente sia a part time;
- e) è previsto il diritto all'indennità pari al 90% e, in caso di ricovero ospedaliero, per 180 giorni massimo nell'anno solare totalmente a carico dell'INPS.

53. Possono essere ricomprese nella malattia le assenze per visite mediche, prestazioni specialistiche e accertamenti diagnostici?

- a) qualora non sia possibile effettuare le prestazioni sanitarie al di fuori dell'orario di servizio, il dipendente può usufruire di permessi personali 1104 spendibili anche frazionati in ore;
- b) no, non è possibile. il dipendente dovrà usufruire di congedo personale o recupero ore;
- c) nel caso in cui l'assenza sia inferiore o pari alla metà della durata dell'orario di lavoro, il dipendente potrà richiedere un permesso di uscita con relativa decurtazione del trattamento economico;
- d) soltanto nel caso in cui non sia oggettivamente possibile effettuare le prestazioni al di fuori dell'orario di servizio e mediante l'esibizione di certificazione rilasciata dalla struttura sanitaria in cui si è recato;
- e) sì, però soltanto nel caso in cui le prestazioni diagnostiche siano eseguite presso strutture pubbliche accreditate.

54. Il personale dipendente che fruisce di n. 2 ore di riduzione oraria per allattamento, può prestare lavoro straordinario?

- a) soltanto in situazioni "straordinarie", se la riduzione oraria è applicata alla fine del turno di lavoro e se la donna lavoratrice ha dato la propria espressa disponibilità;
- b) dipende dall'articolazione oraria scelta dalla lavoratrice e dalla indispensabilità delle funzioni svolte;
- c) se lo straordinario viene programmato all'inizio del turno la lavoratrice è tenuta a dare seguito alla richiesta;
- d) si ritiene che tale eventualità sia strettamente correlata al reparto scelto dalla lavoratrice;
- e) nulla vieta che essa possa prestare lavoro straordinario oltre il proprio turno ma deve essere recuperare entro al max 48 ore.

55. Un lavoratore in malattia può decidere autonomamente di rientrare in servizio prima della scadenza del termine previsto nelle certificazioni mediche?

- a) può rientrare in servizio ma soltanto se l'assenza non è dovuta a malattie infettive. In tal caso l'amministrazione prima della riammissione definitiva richiede una visita di controllo da parte del medico competente;
- b) può rientrare in servizio anche prima della scadenza del periodo di assenza per malattia previsto dal relativo certificato medico. L'amministrazione richiede al lavoratore una specifica certificazione medica dalla quale risulti la piena idoneità psico-fisica allo svolgimento delle mansioni proprie del profilo di appartenenza;
- c) il lavoratore non può assolutamente riprendere il lavoro prima della scadenza dei termini di malattia definiti nel certificato a meno che lo stesso certificato non venga rettificato dal medesimo medico che lo ha sottoscritto;
- d) soltanto se la certificazione medica riporta che il lavoratore è abilitato a modificare autonomamente la data di chiusura del periodo di assenza per malattia;
- e) in nessun caso è permesso al lavoratore di riprendere servizio a contatto con il pubblico prima della scadenza dei termini di malattia.

56. L'Organizzazione Mondiale della Sanità agisce nell'ambito:

- a) del Commonwealth
- b) delle Nazioni Unite
- c) dell'Unione Europea
- d) della CE
- e) nessuna delle altre risposte è corretta

57. Il sistema di pagamento a prestazione è stato introdotto in Italia:

- a) dalla Legge dello Stato 502/92
- b) da normative regionali diverse da regione a regione
- c) da una normativa europea del '90
- d) dalla Legge Regione Lombardia 31/97
- e) dalla legge 833/78

58. In Italia, l'età minima per l'eleggibilità a senatore è di:

- a) 18 anni
- b) 40 anni
- c) non esiste un limite inferiore di età
- d) 25 anni
- e) 21 anni

59. In Italia quale fonte ha previsto disposizioni per garantire l'accesso alle cure palliative e alla terapia del dolore:

- a) Legge 15 marzo 2010, n. 38
- b) Documento della Società Italiana di Cure Palliative
- c) Indirizzi alle Regioni contenute nel Piano Sanitario Nazionale
- d) Linee Guida internazionali
- e) Legge 517 del 1993

60. La tutela fornita dall'INAIL assicura il lavoratore contro i danni:

- a) Fisici derivanti da infortuni e malattie;
- b) Fisici ed economici derivanti da infortuni sul lavoro e malattie professionali;
- c) Economici derivanti da infortuni sul lavoro che comportino l'inabilità al lavoro;
- d) Economici derivanti da infortuni sul lavoro e malattie professionali invalidanti;
- e) Patrimoniali subiti dal lavoratore per un infortunio anche estraneo alla prestazione lavorativa

61. Un Virus è:

- a) un programma che contiene una serie di regole, in grado di infettare e di danneggiare il pc che lo ospita;
- b) un messaggio di posta elettronica che non contenga nessun oggetto;
- c) un qualsiasi allegato di posta elettronica;
- d) un programma che serve a cancellare vecchi dati in un pc;
- e) un sistema operativo che opera senza l'intervento dell'utente.

62. Una possibile definizione di "Sistema Operativo" è:

- a) è l'insieme di tutti i programmi installati in un PC;
- b) è il metodo con cui opera il PC;
- c) è un'interfaccia tra l'utente e l'hardware del sistema;
- d) è il programma interno della CPU che ne consente la funzionalità;
- e) è la memoria centrale di un calcolatore.

63. Leggere il breve testo in inglese.

Each country's health system is different and might not include all the things you would expect to get free of charge from the NHS. This means you may have to make a patient contribution to the cost of your care.

Your European Health Insurance Card (EHIC) will enable you to access the necessary state-provided healthcare in Italy at a reduced cost, or sometimes for free when on a temporary stay. The EHIC also covers you for treatment of pre-existing medical conditions, although it does not cover you if you are travelling for the express purpose of obtaining medical treatment.

Your European Health Insurance Card (EHIC) does not cover going abroad for medical treatment. The EHIC is for emergency treatment that becomes necessary while you're abroad.

As an NHS patient, you have the right to receive treatment anywhere in the European Economic Area (EEA). However, conditions may apply in some cases.

Da quanto discusso emerge che:

- a) Health systems in every country include all the service you would expect free of charge
- b) EHIC helps you to obtain a temporary stay in Italy
- c) State-provided health care in Italy can be accessed by your European Health Insurance Card
- d) In Italy healthcare is always provided free of charge
- e) EHIC is only valid for pre-existing medical conditions

64. Leggere il breve testo in inglese e rispondere alla domanda che segue.

Political corruption means the abuse of political power by the government leaders to extract and accumulate for private enrichment, and to use politically corrupt means to maintain their hold on power. However, abuse of political power for other purposes, such as repression of political opponents and general police brutality, is not considered political corruption. Political corruption takes place at the highest levels of the political system, and hence it can be differentiated from administrative or bureaucratic corruption. It can also be distinguished from business and private sector corruption. Political corruption can be of two forms. The first one is which includes both accumulation and extraction and where government officials use and abuse their hold on power to extract from the private sector, from government revenues, and from the economy at large. Some of the examples of the above mentioned form of corruption are extraction, embezzlement, rent-seeking, plunder and even kleptocracy ("rule by thieves"). The second form of political corruption is one in which extracted resources (and public money) are used for power preservation and power extension purposes. This usually takes the form of favouritism and patronage politics. It includes a favouritist and politically motivated distribution of financial and material inducements, benefits, advantages, and spoils.

Da quanto discusso emerge che:

- a) abuse of political power for other purposes, such as repression of political opponents and general police brutality, is also considered political corruption.
- b) administrative or bureaucratic corruption are forms of political corruption
- c) political corruption takes place at the every level of the political system
- d) extraction, embezzlement, rent-seeking and plunder are not to be considered forms of corruption
- e) political corruption means the abuse of political power by the government leaders to maintain their hold on power.

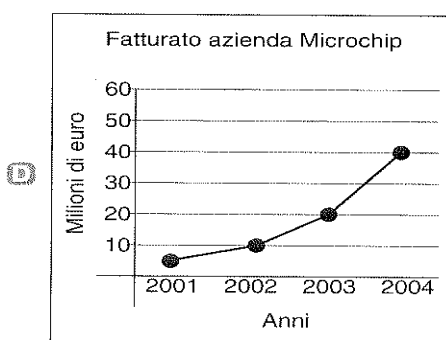
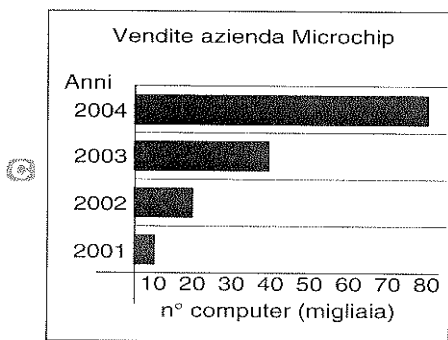
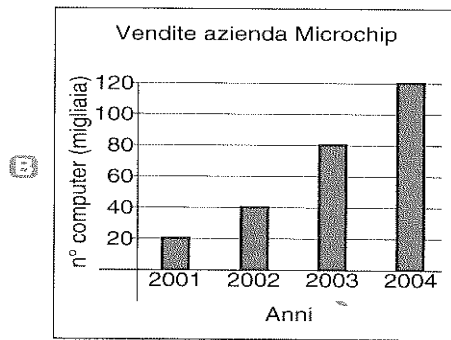
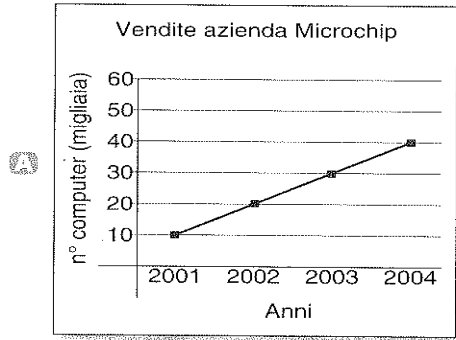
65. La probabilità P è un numero sempre compreso fra:

- a) $0 < P < \infty$
- b) $0 < P < 1$
- c) $1 < P < \infty$
- d) $-\infty < P < \infty$
- e) $-\infty < P < 0$

66. Quali tra le seguenti definizioni consente di definire che il rischio di un'esposizione è significativamente più alto nel determinismo di una malattia?

- a) Il rischio relativo (RR) ha un valore maggiore di 1.5;
- b) Il rischio relativo (RR) ha un valore maggiore di 2;
- c) Il limite di confidenza inferiore del rischio relativo ha un valore maggiore di 1;
- d) Il limite di confidenza superiore del rischio relativo ha un valore maggiore di 10
- e) Il limite di confidenza superiore del rischio relativo ha un valore maggiore di 1

67. Il numero di computer venduti all'azienda Microchip raddoppia ogni anno. Quale dei seguenti grafici rappresenta in modo corretto tale informazione?



E) Nessuno dei grafici proposti

- a) figura A
- b) figura B
- c) figura C
- d) figura D
- e) figura E

68. Un soggetto abituato a bere un quarto di vino al giorno deve osservare una dieta che prevede al massimo un quinto di litro di vino al giorno. A quale quantità giornaliera minima di vino dovrà rinunciare?

- a) 25 ml
- b) 50 ml
- c) 100 ml
- d) 10 ml
- e) 75 ml

69. Un gruppo di 10 ciclisti è composto da 6 uomini e 4 donne. I 10 ciclisti pesano in media 74 kg. Il peso medio dei 6 uomini è 82 kg. Quanto pesano in media le 4 donne?

- a) 62 kg
- b) 63 kg
- c) 64,5 kg
- d) 66 kg
- e) 72 kg

70. Il campionamento semplice si ha quando:

- a) la popolazione viene suddivisa in sottogruppi e da questi viene estratto un campione di entità proporzionale alla percentuale del sottogruppo;
- b) ogni unità di popolazione ha la stessa probabilità di venire estratta;
- c) le unità vengono scelte dal ricercatore con criteri personali;
- d) alcune unità della popolazione vengono scelte a priori, tutte le altre hanno la stessa probabilità di venire estratte;
- e) nessuna delle precedenti risposte.

71. La cultura è un fenomeno collettivo che si sviluppa:

- a) sulla base di precise norme
- b) sulla base di una precisa capacità decisionale delle autorità
- c) sulla base delle interpretazioni personali dei soggetti
- d) nel corso di processi di interazione sociale
- e) nel corso della vita

72. Per Socrate il processo di apprendimento è aiutato da un metodo paragonabile alla:

- a) maieutica, ovvero all'opera della levatrice
- b) maieutica, ovvero all'opera dell'artigiano
- c) dialettica, ovvero all'arte del discorso
- d) dialettica, intesa come tesi, antitesi, sintesi
- e) retorica, ovvero la capacità di persuadere

73. Quale di questi autori ha teorizzato il concetto di "zona di sviluppo prossimale"?

- a) Freud
- b) Bowlby
- c) Fodor
- d) Vygotskij
- e) Chomsky

74. La definizione più appropriata di risk assesment è:

- a) informazione ed educazione della popolazione su problemi sanitari;
- b) processo che porta alla valutazione e alla misura degli effetti sulla salute di un fattore di rischio;
- c) processo che conferisce alle popolazioni i mezzi per assicurare un maggior controllo sul livello di salute e migliorarlo;
- d) identificazione del livello di rischio, eliminazione o riduzione dell'esposizione e continuo monitoraggio del livello di rischio individuale e collettivo;
- e) la modifica di atteggiamenti e comportamenti della popolazione.

75. La fondatrice del movimento hospice è:

- a) Cecyle Saunder
- b) Florence Nightingale
- c) Dorothea Orem
- d) Kübler-ross Elisabeth
- e) Marie Manthey

76. La formazione ha come obiettivo quello di trasmettere, stimolare..... e e sviluppare e.....

Completare la frase scegliendo la sequenza esatta.

- a) abilità, comportamenti e motivazione, conoscenze e capacità;
- b) conoscenze, ragionamento e motivazione, teorie e capacità;
- c) competenze, comportamenti e motivazioni, teorie e capacità;
- d) conoscenze, comportamenti e motivazione, abilità e capacità;
- e) competenze, comportamenti e motivazione, abilità e capacità.

77. Il principio di impone al sanitario di orientare la sua azione al bene del paziente, con l'intento di procurargli vantaggio anche nel caso in cui questi non sappia riconoscere o articolare la richiesta appropriata. Il principio di fa riferimento alla libertà dell'individuo di autodeterminare le proprie scelte di salute, in relazione a valori e interessi personali e non interpretati dall'esterno. Il principio di impone al sanitario di agire con imparzialità e di offrire pari opportunità di accesso alle cure, in modo che a bisogni analoghi corrisponda un trattamento analogo.

Individua l'esatta sequenza di parole mancanti:

- a) beneficenza, autonomia, giustizia
- b) autonomia, beneficenza, giustizia
- c) giustizia, beneficenza, autonomia
- d) giustizia, autonomia, beneficenza
- e) beneficenza, giustizia, autonomia

78. Il significato più appropriato di "Management" è:

- a) dotare l'azienda di personale altamente qualificato ed efficiente;
- b) la capacità di gestione delle risorse in funzione di un obiettivo predeterminato;
- c) gestione finalizzata delle risorse basata su logiche e strumenti specifici;
- d) comprendere l'evoluzione del sistema sanitario;
- e) gestire le organizzazioni nel rispetto delle normative vigenti.

79. Nell'ambito delle scienze sanitarie, il termine "advocacy" indica:

- a) insieme delle norme che regolano una determinata professione sanitaria;
- b) la protezione e promozione dei diritti dell'assistito da parte di un operatore sanitario;
- c) l'attività forense esercitata dal medico legale;
- d) l'attività forense esercitata da un qualsiasi professionista sanitario;
- e) la richiesta di consulenza tra appartenenti al medesimo profilo professionale.

80. Secondo il "cognitivismo", come funziona la mente nel processo di apprendimento?

- a) agisce per riflessi condizionati generati dallo scambio tra stimolo e risposta;
- b) è considerata una sorta di "scatola nera", che trattiene indelebilmente ogni piccolo particolare;
- c) si limita a registrare i dati sensoriali provenienti dall'esterno senza integrarli;
- d) acquisisce passivamente le nozioni tramite strumenti per immagazzinare le conoscenze;
- e) funziona come un sistema capace di integrare e di elaborare le informazioni provenienti dall'ambiente esterno.